



**DELHI PUBLIC SCHOOL
NERUL, NAVI MUMBAI**

Practice Assignment for the Annual Examination (2024-25)

Class: VI
Subject: English

Date of Uploading: 31.01.2025
Date of Submission: 07.02.2025

General Instructions:

- I] This paper has 4 printed sides and 13 questions. All questions are compulsory.**
 - II] You may attempt any section at a time.**
 - III] All questions of a particular section must be attempted in the correct order.**
-

Section – A (Reading)

I] Read the following passage carefully:

1. The ‘Little Tramp’, the unforgettable character Charlie Chaplin invented, was born purely by accident in 1916. While rushing to a film shoot in California, he grabbed clothes other people had left behind in the changing room. And when he emerged, he found he had created a personality everybody loved. A little guy in a bowler hat, a close-fitting jacket, a cane, a pair of outsized shoes and a brush-like moustache! Before long, Chaplin found himself as a star. That puzzled him, for he saw himself essentially as a shy British Music Hall comedian. The U.S. acknowledged him as its king of silent film comedy. Soon, so did crowds all over the world.
2. But life wasn’t always a laugh for Charles Spencer Chaplin. Both his parents were Music Hall artists, who separated when Charlie was very young. His childhood was very sad, for his mother never earned enough to look after Charlie and his older brother, Sydney. Sometimes, Chaplin had to sleep on the streets and forage for food in the garbage. Charlie took his first bow on stage when his mother made her last appearance. It happened when her voice broke during a song. Her son stepped on stage and sang a popular song. That’s when a star was born.
3. Through all these years of success, Charlie never forgot his troubled childhood. It made him recall a Christmas when he was denied two oranges and his bag of sweets for breaking a rule at the orphanage he went to after his mother’s death. It would have broken his heart, if the other children had not offered him a share of theirs. Spontaneously, the adult Chaplin gifted the orphanage with a motion picture machine and insisted that each child should have as many oranges and sweets as they pleased.

(A) On the basis of your reading of the above passage, answer the following questions by choosing the correct option:

(1) What was the name of the great character that was created by the comedian Charlie Chaplin?

- (i) The Music Hall Artist
- (ii) Chaplin
- (iii) The Little Tramp
- (iv) The Great British Comedian

(2) Which country acknowledged him as the king of silent film comedy?

- (i) The U.S.
- (ii) California
- (iii) Sydney
- (iv) London

(3) Charlie's parents worked as _____

- (i) comedian
- (ii) Music Hall artists
- (iii) Music Hall comedians
- (iv) theatre artist

(4) Pick out the statement which is NOT TRUE.

- (v) Charlie was born in the year 1916.
- (vi) Charlie's first bow and mother's last performance were on the same stage.
- (vii) Charlie was gifted two oranges and a bag of sweets during Christmas.
- (viii) Life was not always a happy episode for Charlie.

(B) Answer the following questions briefly:

- (1) Give two reasons to show that his early life was very sad.
- (2) What was Charlie's childhood like?
- (3) Describe the personality created by Charlie, whom everybody loved.
- (4) How did Charlie show his gratitude towards the orphanage where he had grown up?
- (5) Find the words in the passage which mean the same as:
 - (i) to refuse to admit (para 3)
 - (ii) to go from place to place searching for things that you can eat or use. (para 2)

Section – B (Writing)

II] Write a diary entry about the One Day trip organized by the school describing your feelings and memorable experiences in 100 to 120 words.

III] You are disturbed seeing the cruelty done by people towards animals especially street dogs. Design a poster to promote kindness and compassion towards street dogs.

IV. Write a letter to the Art Teacher of your school requesting her to consider your drawing for the school magazine in 80 – 100 words. You are Keerti/Kavish of Class VI, P. R. B. Public School, Pune.

Section – C (Grammar)

V] Change the sentences into indirect speech.

1. "I am studying for my exams," he said.
2. Rohan said, "I want to finish the project by tomorrow."
3. John said to Ravi, "I like to play Table Tennis".
4. "I went to the store yesterday," said Jerry.
5. She said, "It is very quiet here."

VI] Fill in the blanks using correct prepositions.

1. Veena sits _____ Riya and Vani. (among/ at/ between/ on)
2. I like this house _____ the river. (at/by/ under/in)
3. They are walking _____ the bridge. (on/ in/ at/ for)
4. I haven't seen him _____ three years. (of/ for/ since/ on)
5. He has been working at the school _____ 2023. (for/ in/ since/ at)

VII] Fill in the blanks by choosing the correct verbs from the brackets.

1. The boys _____ running on the field. (is/are)
2. Megha _____ submitted her book. (has / have)
3. This bunch of bananas _____ fresh. (look/ looks)
4. Very young children _____ with their parents. (play/ plays)

VIII] Complete the sentences using the suitable conjunctions.

1. He is slow _____ steady. (or/ but/ for)
2. We should trust in God _____ continue to do the right thing. (when/ and/ but)
3. I am going to the mall _____ I want to hang out with my friends. (if/ othwewise/ as)
4. I will be leaving tomorrow _____ I have not done any packing. (but/ yet/ so)

IX] Fill in the blanks as directed in the brackets.

1. The students of Jumbo Kids _____ their Annual Day. (present continuous of celebrate)
2. The train _____ before I arrived at the station. (past perfect of start)

X] Match the idioms with their meanings.

- | | |
|--------------------|---|
| 1. see eye to eye. | a. something that is very easy to do |
| 2. miss the boat | b. to have same opinion as someone else |
| 3. a piece of cake | c. to lose the opportunity |

1. _____ 2. _____ 3. _____

XI] Complete the following proverbs.

1. God helps those _____
2. He who laughs last _____

Section – D (Literature)

XII] Read the following extracts and answer the questions that follow:

(A) They sprinted through the lane and caught the kite even before it hit the ground. Abbas grinned triumphantly...

- (i) Whom does ‘they’ refer to in the above line?
- (ii) Why did Abbas grin triumphantly?
- (iii) Name the author and the lesson from which the above lines are taken.

**(B) “Every night you heard
water running and the clink
of bangles on her unseen hand.”**

- (i) Identify and explain the figure of speech in the second line.
- (ii) Where did the poet hear the sounds?
- (iii) Who is making all these sounds according to the poet?

XIII] Answer the following questions in 30-40 words each.

1. Why was Maja eager to know about Zlata’s diary?
2. Why does the poet say that ghosts are ‘bad hosts’ and ‘worse guests?’
3. Name the war mentioned in the lesson ‘From Zlata’s Diary.’ How did the war effect the children of Sarjevo?
4. According to the poet, what does a cat do in profound meditation?
5. What special care did the boys take to make their manja strong enough to cut Bulle Khan’s kite?
6. Why did Laxman think that his school was a good school?



**DELHI PUBLIC SCHOOL
NERUL, NAVI MUMBAI
Practice Assignment for the Annual Examination (2024-25)**

Class: VI
Subject: French

Date of Uploading -31/01/2025
Date of Submission -03/02/2025

General Instructions:

This paper consists of 4 sections and 13 questions.

SECTION A

Q1. Lisez le texte et répondez aux questions qui suivent :

- La mère : Aujourd'hui, mes enfants, allez au marché. Toi, Nicole, va chez le boucher et achète de la viande pour la semaine prochaine.
- Nicole : Oui, maman.
- La mère : Prends ce crayon et note.
- Nicole : Après, je passe à la boulangerie?
- La mère : Oui
- Éric : Maman, demain, c'est dimanche! Tu vas faire un gâteau au chocolat?
- La mère : Est-ce que j'ai le temps de penser aux gâteaux? Toi, aussi tu vas au supermarché.
- Éric : Et après
- La mère : Après avec Nicole, vous allez acheter des légumes et des fruits. Je vais faire une autre liste
- Éric : N'oublie pas le melon et le gâteau au chocolat! Demain, c'est dimanche!

Petit Lexique : Tiens! – Hold, Gourmand – greedy, Penser – to think ,boulangerie- bakery, acheter-to buy

A. Répondez :

- i. Qu'est-ce que Nicole va acheter chez le boucher?
- ii. Qu'est-ce qu'Éric désire manger?

B. Dites «vrai» ou «faux»:

- i. Le boucher vend du gâteau.
- ii. La mère demande aux enfants d'aller au marché.
- iii. Ils vont à la boulangerie.
- iv. C'est samedi dans le texte.

C. Complétez avec un mot du texte:

- i. Elle a un rouge et un stylo bleu. [crayon / gâteaux/ viande]
- ii. Cet enfant veut: il prend beaucoup de tartes. [dimanche / manger / passe]
- iii. Je vais acheter du pain à la [boucherie / boulangerie / marché]
- iv. Nous mangeons des le matin. [demain / prochain/ fruits]

SECTION B

Q2. Complétez le texte avec les mots donnés :

[ans, deux, ballon, est, jambes, chien, parc, avec]

C'est mon ____, Bruno. Il est beau. Il joue ____ moi. Il aime jouer avec le _____. Nous allons dans le _____ le soir. Il a 3 _____. Il ____ actif. Il a quatre ____ et ____ oreilles.

Q3. Mettez le dialogue en ordre :

Paul : C'est moi, Paul. Que fais-tu ?

Robert : Je fais mon devoir. Pourquoi ?

Robert : Au revoir !

Paul : Allo c'est toi, Robert ?

Robert : D'accord, je viens dans une heure.

Paul : Tu veux venir chez moi ? On va jouer aux jeux vidéo !

Robert : Oui c'est moi ! C'est qui ?

Robert : Délicieux. J'adore les crêpes !

Paul : D'accord...à bientôt !

Paul : Génial ! J'attends. Je vais dire Maman pour préparer les crêpes

Q4. Décrivez votre famille.

SECTION C

Q5. Mettez au négatif :

1. La fille mange du pain.
2. La mère de Paul fait un gâteau.
3. Il y a une fille dans le salon.

Q6. Mettez au pluriel :

1. Il y a un feu et un pneu dans le garage.
2. Il y a un animal dans le bus.

Q7. Conjuguez les verbes au présent :

1. Les enfants de M. Dubois (étudier) les maths mais ils (préférer) la science.
2. Vous (manger) des sandwiches et nous (partager) de la salade.
3. Ma mère (réussir) au bureau et mes parents (accomplir) leur but. [their goal]
4. Tu (entendre) du bruit.
5. Vous (faire) le devoir.
6. Les parents (boire) du vin.
7. Tu (prendre) le repas.
8. Elles (aller) en Espagne.
9. Le garçon (venir) du Japon.
10. Vous (apprendre) l'espagnol.

Q8. Mettez à l'interrogatif :

1. Ce sont des livres (I)
2. Valérie fait un gâteau (II)
3. Il y a un hibou sur l'arbre. (II)

Q9. Remplissez avec les adjectifs possessifs :

1. Elle téléphone _____ mère
2. _____ voiture est rouge.
3. Les élèves partent avec _____ parents.

Q.10. Remplissez avec les articles partitifs ou définis :

1. Il préfère _____ thé noir.
2. Je veux _____ café.
3. Il n'aime pas _____ chocolats
4. Il ne mange pas _____ viande.
5. Tu prends _____ jus de fruit.

Q.11. Remplissez avec les articles contractés :

1. Il parle _____ jeune fille. (au/à la/ de)
2. Où est la sœur _____ petit garçon ? (du/de la/au)
3. Vous montrez des photos _____ votre mère. (à la/ à/du)
4. Les clés _____ voiture sont dans le tiroir. (de la/ de/à la)
5. Il parle _____ Sylvie. (à/ au/à la)

SECTION D

Q.12. Répondez aux questions :

1. Quand est la fête nationale de la France ?
2. Nommez les fromages français.
3. Nommez les fleuves en France.
4. Nommez quatre parties du corps.
5. Combien de doigts tu as ?

Q.13. Remplissez les tirets :

1. La fête de la Musique est le _____.
2. Le 25 décembre, les français célèbrent _____.
3. _____ est le quatrième jour de la semaine.
4. Je regarde avec mes _____.
5. _____ et _____ sont les viennoiseries françaises.



दिल्ली पब्लिक स्कूल
नेरूल, नवी मुंबई
पुनरावृत्ति अभ्यास-पत्र (वार्षिक परीक्षा 2024-2025)

कक्षा : 6

जमा करने की तारीख: 03.02.2025

विषय: हिंदी

खंड - क

प्रश्न-1 निर्देशानुसार उत्तर दीजिए-

1. रेखांकित संज्ञा के भेद चुनिए-

(क) मेरा विद्यालय नवी मुंबई में है।

(i) व्यक्तिवाचक (ii) भाववाचक (iii) द्रव्यवाचक (iv) समुदायवाचक

(ख) मिट्टी के खिलौने जल्दी टूट जाते हैं।

(i) व्यक्तिवाचक (ii) भाववाचक (iii) द्रव्यवाचक (iv) समुदायवाचक

2. उचित संधि-विच्छेद चुनिए -

(क) देवालय - (i) देव+आलय (ii) देवा +आलय (iii) देव+लय (iv) देवा + लय

(ख) महेंद्र - (i) महा +एंद्र (ii) महा + इंद्र (iii) महे +इंद्र (iv) महे +द्र

3. उचित संधि चुनिए-

(क) लक्ष्मी + ईश - (i) लक्ष्मीईश (ii) लक्ष्मीश (iii) लक्ष्मिश (iv) लक्ष्मईश

(ख) यथा + उचित - (i) यथाचित (ii) यथाउचित (iii) यथुचित (iv) यथोचित

4. रिक्त स्थान के लिए सर्वाधिक उचित समुच्चयबोधक शब्द चुनिए-

(क) पार्टी में सुरेखा जाएगी _____ रेखा?

(i) या (ii) इसलिए (iii) क्योंकि (iv) वरना

(ख) मैं बीमार था _____ स्कूल नहीं जा पाया।

(i) या (ii) इसलिए (iii) क्योंकि (iv) वरना

5. रिक्त स्थान के लिए सर्वाधिक उचित विस्मयादिबोधक शब्द चुनिए-

(क) _____! क्या खाना पकाया है।

(i) खबरदार (ii) वाह (iii) हाय (iv) हट

(ख) _____! कितनी गंदी जगह है।

(i) खबरदार (ii) वाह (iii) छिः (iv) बढ़िया

6. उचित विराम चिह्न लगाकर वाक्य पुनः लिखिए-

(क) बच्चा रोते रोते कहाँ जा रहा है

(ख) मनोज ने छोटे भाए को कहा अब तुम मेरे खिलौने ले सकते हो

7. कोष्ठक में से उचित शब्द चुनकर रिक्त स्थान भरिए-

(क) यह रचना _____ में लिखी हुई है। (अवधि/ अवधी)

(ख) मैंने इस पुस्तक को _____ से अंत तक पढ़ा है। (आदी/ आदि)

8. दिए गए शब्दों का सर्वाधिक उचित अर्थ विकल्पों में से चुनकर लिखिए-

(क) अंक - (i) संख्या (ii) मतलब (iii) परीक्षा (iv) धरती

(ख) ग्रहण - (i) कपड़ा (ii) सूरज (iii) लेना (iv) चंद्र

9. दी गई लोकोक्तियों के उचित अर्थ चुनिए-

(क) ओस चाटे प्यास नहीं बुझती -

(i) मुसीबत को स्वयं बुलाना

(ii) कहने में और करने में अंतर

(iii) एक दोष होने पर दूसरा दोष भी मिलना

(iv) आवश्यकता अधिक हो, तो थोड़े से काम नहीं चलता

(ख) अक्ल बड़ी या भैंस -

(i) अधिक खाने वाले को कम देना

(ii) कार्य शुरू होते ही विघ्न पड़ना

(iii) शरीर की अपेक्षा अक्ल बड़ी होती है

(iv) आपस की फूट से हानि होना

10. रिक्त स्थान के लिए सर्वाधिक उचित लोकोक्ति चुनिए-

(क) रमेश शास्त्रीय संगीत के बारे में कुछ नहीं जानता इसलिए संगीत -सभा में मज़ाक करता रहता है। इसे कहते हैं _____

(i) एक पंथ दो काज (ii) आ बैल मुझे मार

(iii) थोथा चना बाजे घना (iv) बंदर क्या जाने अदरक का स्वाद

खंड - ख

प्रश्न-2 निम्नलिखित प्रश्नों के उत्तर विस्तारपूर्वक दीजिए-

1. दूसरे दिन कबूतर को डॉक्टर से दिखाने पर क्या पता चला?

2. कवि ने निंदक को अपने पास रखने के लिए क्यों कहा है?

3. सौम्य प्लास्टिक की थैलियों के बारे में रमा से क्यों जानना चाहता था?

प्रश्न-3 सर्वाधिक उचित विकल्प चुनकर प्रश्नों के उत्तर दीजिए -

1. प्लास्टिक की थैलियाँ खाकर कौन-सा जानवर मर गया?

(i) कुत्ता (ii) भैंस (iii) बकरी (iv) गाय

2. कबू ने चाव से क्या खाया?

(i) मटर (ii) दाल (iii) खड़े मूँग (iv) चावल

3. खीरे की कड़वाहट को दूर करने के लिए उसे काटकर क्या लगाया जाता है?

- (i) नमक (ii) मिर्च (iii) हल्दी (iv) पानी

प्रश्न-4 दिए गए पद्यांश को पढ़कर प्रश्नों के सर्वाधिक उचित विकल्प चुनिए-

जो रहीम उत्तम प्रकृति , का करि सकत कुसंग।

चंदन विष व्यापत नहीं, लपटे रहत भुजंग॥

1. उत्तम स्वभाव वाले लोगों पर किसका असर नहीं होता?

- (i) कुसंग (ii) सत्संग (iii) ज़हर (iv) कुदरत

2. ज़हर का असर किस पर नहीं पड़ता?

- (i) प्रकृति (ii) चंदन (iii) स्वभाव (iv) शरीर

3. भुजंग का अर्थ क्या है?

- (i) भुजा (ii) जंग (iii) अंग (iv) साँप

4. चंदन किसका प्रतीक है?

- (i) सुसंग (ii) कुसंग (iii) अधम स्वभाव (iv) उत्तम स्वभाव

प्रश्न-5 दिए गए गद्यांश को पढ़कर प्रश्नों के सर्वाधिक उचित विकल्प चुनिए-

कबूतर को हमारे घर में रहते-रहते दो सप्ताह से ऊपर हो चले थे। तीन मनुष्य, एक अल्सेशियन कुतिया और पाँचवाँ यह पक्षी। घर आने वालों को कबूतर से सबसे पहले मिलवाया जाता था।

1. कबूतर को घर में रहते-रहते कितना समय हो चुका था?

- (i) एक सप्ताह (ii) दो सप्ताह (iii) तीन सप्ताह (iv) चार सप्ताह

2. लेखक के घर का पाँचवाँ सदस्य कौन बना ?

- (i) कबूतर (ii) कुतिया (iii) लेखक (iv) लेखक की पत्नी

3. किसे कबूतर से सबसे पहले मिलवाया जाता था?

- (i) कुतिया (ii) डॉक्टर (iii) घर आने वालों को (iv) नौकर

खंड - ग

प्रश्न-6 अच्छी सेहत के लिए क्या-क्या करना चाहिए?- इसके बारे में दो मित्रों के बीच संवाद लिखिए।

प्रश्न-7 दिए गए विषयों में से किसी एक पर नारा लेखन कीजिए।

- (i) योग का महत्व (ii) देशभक्ति (iii) प्लास्टिक प्रदूषण



दिल्ली पब्लिक स्कूल

नेरुळ, नवी मुंबई

वार्षिक सराव परीक्षा पत्रिका (२०२४-२५)

वर्ग - ६ वी

Date of uploading - 31/01/2025

विषय - मराठी

Date of submission - 04/02/2025

प्रश्नपत्रिका एकूण ४ विभागांची आणि ६ प्रश्नांची आहे.

विभाग - अ

प्रश्न क्रमांक १. खालील अपठीत उतारा काळजीपूर्वक वाचा व त्यावर आधारित विचारलेल्या प्रश्नांची उत्तरे पर्यायांमधून निवडा.

खूप वर्षांपूर्वीची गोष्ट. उत्तर प्रदेशात वाराणसी नावाचे एक प्रसिद्ध तीर्थक्षेत्र आहे. तेथे निरु नावाचा एक विणकर राहत असे. तो मोठा कष्टाळू व सदाचारी होता. तो आणि त्याची पत्नी दिवसभर विणकाम करून आपले पोट भरत असे. शेजाऱ्यापाजाऱ्यांचे त्यांच्यावर फार प्रेम होते.

एके दिवशी पहाटे निरु बाहेर पडला. गावाबाहेर तलाव होता. तिथे तो गेला. इतक्यात त्याला लहान मुलाचे रडणे ऐकू आले. त्या दिशेने तो पुढे गेला. पाहतो तर तेथे एक लहान मूल रडत होते. त्याने त्याला हळूच उचलले आणि प्रेमाने जवळ घेतले. तो घरी आला आणि पत्नीला म्हणाला, "बघ, आज सकाळीच मला देवाने हा प्रसाद दिला."

"छान आहे मुलगा, मी त्याला माझ्या मुलाप्रमाणेच वागवेन." त्यांनी मुलाचे नाव कबीर असे ठेवले. हाच मुलगा पुढे थोर संत झाला.

१. उत्तर प्रदेशातील प्रसिद्ध तीर्थक्षेत्र कोणते ?

अ] नाशिक

ब] नागपूर

क] वाराणसी

ड] पुणे

२. निरुने मुलाचे नाव काय ठेवले ?

अ] विकास ब] कबीर क] विनोद ड] राजेंद्र

३. गावाबाहेर काय होता ?

अ] तलाव ब] समुद्र क] वाडा ड] गड

४. निरु घरी येताच पत्नीला काय म्हणाला ? [एक ते दोन वाक्यात उत्तर लिहा.]

५. निरु व त्याची पत्नी काय करून आपले पोट भरत ? [एका वाक्यात उत्तर लिहा.]

६. 'Wife' या इंग्रजी शब्दासाठी उताऱ्यात आलेला मराठी शब्द लिहा.

अ] पत्नी ब] आई क] आजी ड] मामी

७. तो मोठा कष्टाळू व ----- होता. [रिकामी जागा भरा.]

८. इतक्यात त्याला लहान ----- . [विधान पूर्ण करा.]

९. शेजाऱ्यापाजाऱ्यांचे त्याच्यावर फार प्रेम होते. [अधोरेखित शब्दाची जात ओळखा.]

अ] नाम ब] सर्वनाम क] विशेषण ड] क्रियापद

विभाग - ब

प्रश्न क्रमांक २. व्याकरण.

अ] खालील वाक्यांतील नामे ओळखा.

१. माधवला फार वाईट वाटले.

अ] वाटले ब] माधवला क] वाईट ड] फार

२. नयना सुंदर नक्षी काढते.

अ] सुंदर ब] काढते क] नयना ड] यांपैकी नाही

आ] खालील वाक्यांतील सर्वनामे ओळखा.

१. आज आम्ही खूप मजा केली.

अ] आम्ही ब] आज क] मजा ड] केली

२. त्याने धवत येऊन आमचे स्वागत केले.

अ] स्वागत ब] धावत क] दिले ड] त्याने

इ] खालील वाक्यांतील विशेषणे ओळखा.

१. झाडावर चार पक्षी बसले आहेत.

अ] आहेत ब] चार क] पक्षी ड] बसले

२. काव्या हुशार मुलगी आहे.

अ] आहे ब] हुशार क] काव्या ड] मुलगी

ई] खालील वाक्यांतील क्रियापदे ओळखा.

१. नदीत खूप पाणी होते.

अ] होते ब] नदीत क] खूप ड] पाणी

२. आप्पाजी फार चतुर आहेत.

अ] चतुर ब] आहेत क] आप्पाजी ड] फार

उ] काळ ओळखा.

१. ताई बागेत जाईल.

अ] वर्तमानकाळ ब] भूतकाळ क] भविष्यकाळ

२. नीता पोहायला गेली.

अ] वर्तमानकाळ ब] भूतकाळ क] भविष्यकाळ

ऊ] समानार्थी शब्द लिहा.

१. जल - अ] पाणी ब] औषध क] कापड ड] अन्न
२. आठवण - अ] ढग ब] स्मरण क] पर्जन्य ड] वारा

ए] विरुद्धार्थी शब्द लिहा.

१. टणक x अ] हलके ब] मऊ क] जाड ड] लाकूड
२. अंधार x अ] काळ ब] धार क] प्रकाश ड] कमी

ऐ] वचन बदला.

१. राजा - अ] राग ब] राजे क] रात्र ड] रजा
२. कावळा - अ] केळी ब] कोकीळ क] कावळे ड] कोळी

ओ] लिंग बदला.

१. शिक्षक - अ] माता ब] पिता क] शिक्षिका ड] यांपैकी नाही
२. मुलगा - अ] काका ब] मुलगी क] युवक ड] यांपैकी नाही

औ] खालील वाक्यातील विरामचिन्ह ओळखा.

१. मेघाने कोणते पुस्तक आणले ?

- अ] पूर्णविराम, प्रश्नचिन्ह ब] प्रश्नचिन्ह, स्वल्पविराम
क] प्रश्नचिन्ह ड] पूर्णविराम

२. अहाहा! किती सुंदर देखावा आहे हा.

- अ] उद्गारचिन्ह, पूर्णविराम ब] प्रश्नचिन्ह, स्वल्पविराम
क] उद्गारचिन्ह ड] पूर्णविराम

विभाग - क

प्रश्न क्रमांक ३. अ] खालील प्रश्नांची एका वाक्यात उत्तरे लिहा.

१. नदीचे पाणी कसे होते ?
२. जमीन व पाणी या दोन्ही ठिकाणी राहणारे कोण ?

आ] रिकाम्या जागी कंसातील योग्य शब्द लिहा.

[प्रदूषण, खोलगट, ऐक]

१. मानवा मानवा ----- तर खरे.
२. पर्वत, जल, वातावरण नाही करणार -----.
३. मिन्ना नदीच्या त्या ----- भागात राहायचा कंटाळा आला होता.

इ] खालील प्रश्नाचे एक - दोन वाक्यात उत्तरे लिहा.

१. नदीचे पाणी गढूळ का झाले ?
२. नागोबाची तक्रार कोणती आहे ?

ई] कोण कोणास म्हणाले ते लिहा.

१. "कोण तुम्ही"
२. 'नका नका हो असे बोलू आम्ही आमचे वर्तन बदलू.'

उ] खालील जोड्या जुळवा.

अ गट	ब गट
जमिनीवर राहणारे.	नागोबा
वारूळ, शेत नष्ट.	वनचर
जंगलात राहणारे .	भूचर

प्रश्न क्रमांक ४. अ] खालील प्रश्नांची एका वाक्यात उत्तरे लिहा.

१. चंद्रावरती शाळा कोणत्या शतकात भरेल ?

२. पाणपोई कुठे थाटलेली आहे ?

आ] खालील कवितेच्या ओळी पूर्ण करा.

१. रखरखत्या उन्हात सुटतो अवखळ वारा

-----,

थकलेल्या वाटसरू ग्लानी येते गरागरा

-----.

इ] खालील प्रश्नांचे एक - दोन वाक्यात उत्तरे लिहा.

१. ज्यांनी पाणपोई थाटली त्याला आशीर्वाद का देतात ?

२. थकलेल्या वाटसरूला ग्लानी का येते ?

इ] खालील जोड्या जुळवा.

अ गट

ब गट

तृप्त होणे.

उन्हामुळे अंगाची आग होणे.

दुवा देणे.

समाधानी होणे.

अंगाची लाही लाही होणे.

चक्कर येणे.

ग्लानी येणे.

आशीर्वाद देणे.

विभाग - ड

प्रश्न क्रमांक ५. पुस्तक प्रदर्शनासाठी दिलेला सूचनाफलक वाचून प्रश्नांची उत्तरे लिहा.

सर्व नागरिकांना सुचित करण्यात येते की दरवर्षीप्रमाणे या वर्षीही २६ जानेवारी प्रजासत्ताक दिनाच्या निमित्त 'कोकण भवन' बेलापूर येथे भव्य पुस्तक प्रदर्शन, विक्रीचे आयोजन केले आहे. पुस्तक प्रदर्शनाची वेळ सकाळी ८. ते सायंकाळी ७. वाजेपर्यंत आहे. पुस्तक प्रदर्शन दिनांक २६ जानेवारी ते २९ जानेवारी पर्यंत असेल. तरीही सर्व नागरिकांनी या संधीचा लाभ घ्यावा.

आदेशानुसार,

साहित्य मंडळ, नवी मुंबई.

१. पुस्तक प्रदर्शन कोणत्या तारखेला आयोजित केले आहे ?
२. पुस्तक प्रदर्शन कुठे भरणार आहे ?
३. पुस्तक प्रदर्शनाची वेळ कोणती आहे ?
४. पुस्तक प्रदर्शन कोणत्या मंडळातर्फे आयोजित केले आहे ?
५. पुस्तक प्रदर्शन किती दिवसांपर्यंत असेल ?

प्रश्न क्रमांक ६. खालील विषयावर दहा ते बारा ओळीत निबंध लिहा.

* माझी शाळा



**DELHI PUBLIC SCHOOL
NERUL, NAVI MUMBAI**

Practice Assignment for the Annual Examination (2024-25)

Class: VI

Date of Uploading :31-01-2025

Subject: Mathematics

Date of Submission: 03-02-2025

General Instructions:

This question paper consists of 3 pages and 20 questions.

This question paper is divided into 5 Sections A, B, C, D and E.

Section A Section A has 6 MCQs carrying 1 mark each.

*(No working is required in section A. Write the correct option and answer only)

Section B contains Very Short Answer Type questions of 2 marks each.

Section C contains Short Answer Type questions of 3 marks each.

Section D contains Long Answer Type question of 5 marks each.

Section E contains questions on Case study of 1,1 and 2 marks(with choice) each.

Please write statements, reasons, units, formulae, answer statement wherever required.

SECTION A

Q1. If $4 : 5 :: x : 40$, then the value of x is

- (a) 42 (b) 32 (c) 28 (d) 50

Q2. $3 + \frac{7}{1000} = ?$

- (a) 3.006 (b) 3.07 (c) 3.007 (d) 2.056

Q3. $7.4 + 0.007 + 7.4 = ?$

- (a) 14.444 (b) 14.807 (c) 14.204 (d) 14.004

Q4. A quadrilateral in which diagonals are not equal but bisect each other at 90° is.

- (a) square (b) parallelogram (c) rectangle (d) rhombus

Q5. A part of a circle enclosed by an arc and a radii is

- (a) segment (b) sector (c) diameter (d) radius

Q6. How many lines of symmetry rectangle has?

- (a) 1 (b) 2 (c) 3 (d) 0

SECTION B

Q7. If 25, 35, x are in proportion, find the value of x

Q8. Write an algebraic expression for the following

(i) 4 is subtracted from the product of 3 and a

(ii) 8 subtracted from one fourth of z

Q9. Solve the given equation $3y+6 = 30$ by systematic method.

Q10. Find the LCM of 112, 168, 266 by prime factorization method

SECTION C

Q11. 10 litres of oil cover an area of $92 m^2$.

(i) What area will 35 litres of paint cover?

(ii) How much paint is needed to cover an area of $40 m^2$?

Q12. Arya bought a notebook for ₹ 52.50, a pen for ₹ 5.40 and an eraser for 85 paise. How much did she pay?

Q13. Evaluate $5p + 3x + 2y - z$ for $x = 1, y=3, z = 3$ and $p = 4$

Q14. Find the perimeter of a regular heptagon whose each side is 6.8 cm.

Q15. Sheena runs around a square field of side 25 m , Beena runs around a rectangular field with length 60m and breadth 15m. Who covers more distance and by how much?

SECTION D

Q16. Simplify $253.5 - 14.68 + 44.75 - 38.9$

Q17. (i) Group the like terms in $6ab, 9ab, 4a^2b, 7ab^2$

(ii) Write the terms of the algebraic expression $8 + 2x - 3y$

(iv) Write the coefficient of z^2 in $-2xyz^2$

Q18. Answer the following questions.

(i) How many lines of symmetry does a square have? _____

(ii) Name a polygon which has one line of symmetry. _____

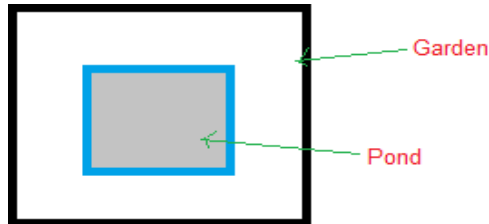
(iii) How many lines of symmetry does a scalene triangle has? _____

Q19. Find the cost of cultivating a rectangular field 80 m long and 35 m wide at ₹15 per square metre. Also, find the cost of fencing the field at ₹ 24 per metre.

SECTION E

Q20. In the figure given below there is rectangular garden of dimension 20 m × 15 m and square shaped pond of side 10 m inside it.

On the basis of given figure answer the questions given below.



- (i) Find the area of the rectangular garden.
- (ii) Find the area of pond.
- (iii) Find the ratio of area of rectangular garden to area of pond.



दिल्ली पब्लिक स्कूल
नेरुल , नवी मुंबई
वार्षिक परीक्षा अभ्यास प्रश्नपत्रम् (2024- 25)

कक्षा - VI
विषय: - संस्कृत

Date of Uploading : 31/01/2025
Date of submission : 03/02/2025

- * अस्मिन् प्रश्नपत्रे 4 खण्डाः 4 पृष्ठाः 16 प्रश्नाः सन्ति ।
- * सर्वे प्रश्नाः अनिवार्याः सन्ति ।

खण्ड : क

प्र. 1. अधोलिखितम् अपठितं गद्यांशं पठित्वा प्रदत्तप्रश्नानाम् उत्तराणि लिखत ।

वने एकः भिक्षुकः वसति । सः प्रतिदिनं भिक्षायै नगरं गच्छति । एकदा एका महिला तस्मै विषाक्तां रोटिकां यच्छति । सः तां रोटिकां कुटीरं नयति । मध्याह्ने एकः बालः वने सूर्यस्य तापेन मूर्च्छितः भवति । सः भिक्षुकः चिन्तयति - यत् सः क्षुधापीडितः अस्ति सः तां रोटिकां तस्मै यच्छति । सः तस्मै जलम् अपि यच्छति । सः बालः जलं पिबति रोटिकां खादति तदा एव सः स्वप्राणान् त्यजति । तदा तस्य अम्बा आगच्छति । तस्य अम्बा तु सा एव महिला भवति या तस्मै भिक्षुकाय रोटिकाम् अयच्छत् ।

I. एकपदेन उत्तरत ।

1. वने कः वसति ?
2. महिला विषाक्तां रोटिकां कस्मै अयच्छत् ?
3. तां रोटिकां कः खादति ?
4. प्राणान् कः त्यजति ?

II . पूर्णवाक्येन उत्तरत ।

1. भिक्षुकः किं चिन्तयति ?
2. बालः प्राणान् कदा त्यजति ?

III . निर्देशानुसारम् उत्तरत ।

- 1.समुचितार्थं चित्वा लिखत -
(क) रोटिकाम् - (1) रोटी (2) दाल (3)रोटी को (4) दाल को
2. "यथा कर्म तथा फलम् ।" इति अस्मिन् वाक्ये कति अव्यये स्तः?

खण्ड : ख

प्र. 2. अधोप्रदत्तं चित्रं दृष्ट्वा मञ्जूषायां पदानां सहायतया संस्कृतेन पञ्चवाक्येषु चित्रवर्णनं कुरुत ।



(मञ्जूषा : वृक्षे , आम्रफलानि , प्रसन्नाः, आम्रवृक्षः, मधुराणि)

1. एषःअस्ति ।
2. बालाः खादन्ति ।
3. फलानि सन्ति ।
4. द्वौ बालकौ तिष्ठतः ।
5. सर्वे बालकाः सन्ति ।

खण्ड : ग

प्र. 3. कारकविभक्त्यानुसारम् उचितं शब्दरूपं लिखत ।

1. गच्छतः ।

(क) मित्रम् (ख) मित्रे (ग) मित्राणि

2. छात्राः प्रणमन्ति ।

(क) अध्यापकम् (ख) अध्यापकात् (ग) अध्यापकः

3. भल्लुकः पतति ।

(क) पर्वतात् (ख) पर्वतस्य (ग) पर्वतम्

प्र. 4. उचितेन अव्ययेन वाक्यपूर्तिं कुरुत ।

(मञ्जूषा : यदि ,अधुना, इतः)

1. मम विद्यालयः बहुदूरम् अस्ति ।

2. त्वं मम सह आगच्छसि तर्हि अहं एव आगमिष्यामि ।

3. विज्ञानस्य युगम् अस्ति ।

प्र. 5. उचितेन संख्यावाचकपदेन वाक्यपूर्तिं कुरुत ।

1. (4)आम्राणि सन्ति ।

2. (2)पिपीलिके चलतः ।

प्र. 6. अधोलिखितानां सर्वनामरूपाणां तालिकापूर्तिं कुरुत ।

	एकवचनम्	द्विवचनम्	बहुवचनम्	
1. किम् (पुं.)	काभ्याम्	तृतीया
2. एतत् (स्त्री.)	एताभ्यः	चतुर्थी
3. किम् (नपुं.)	केभ्यः	पञ्चमी
4. एतत् (पुं.)	एतस्य	षष्ठी

प्र. 7. अधोलिखितानां धातुरूपाणां तालिकापूर्तिं कुरुत ।

मूलधातु	लकारः	एकवचनम्	द्विवचनम्	बहुवचनम्	पुरुषः
1. पा- पिब्	लट्	पिबति	प्रथमः
2. स्था- तिष्ठ्	लृट्	स्थास्यथः	मध्यमः
3. नृत्	लट्	नृत्यामः	उत्तमः

प्र. 8. उचितेन कर्तृपदेन वाक्यपूर्तिं कुरुत ।

1. व्यजने स्तः ।

(क) एतत् (ख) एते (ग) एतानि

2. वृक्षे कूर्दति ?
 (क) कः (ख) कौ (ग) के
3. जनाः कुत्र वसन्ति ?
 (क) एषः (ख) एतौ (ग) एते

प्र. 9. उचितेन धातुरूपेण वाक्यपूर्तिं कुरुत ।

1. गीता पत्रिकां |
 (क) पठसि (ख) पठति (ग) पठन्ति
2. शिक्षकः मधुरवचनं |
 (क) वदति (ख) वदामि (ग) वदन्ति
3. युवां कुत्र |
 (क) भ्रमसि (ख) भ्रमथः (ग) भ्रमथ

प्र 10. अधोलिखितपदानां पर्यायपदं लिखत ।

1. नरः 2. पक्षी

प्र. 11. अधोलिखितपदानां विपर्ययपदं लिखत ।

1. स्थिरः 2. दिवसः

प्र.12. निम्नलिखितेषु वाक्येषु रेखाङ्कितपदं शुद्धं कृत्वा लिखत ।

1. ते वानरान् पश्यामः ।
 2. सा मम भ्राता अस्ति ।
 3. द्वे बालकौ पठतः ।

प्र. 13. अधोलिखितपदानां पदपरिचयं लिखत ।

पदम्	विभक्तिः / पुरुषः	वचनम्
1. एतस्याम्		
2. कस्मै		
3. गमिष्यसि		

खण्ड : घ

प्र. 14. एकवाक्येन उत्तरत ।

1. किं श्रावयितुं शिशुः चन्द्रं कथयति ?
 2. अजीजः गृहं गन्तुं किं वाञ्छति ?
 3. कृषकात् दूरे किं तिष्ठति ?
 4. मार्गे कः आगच्छत् ?

प्र. 15. अधोलिखितान् श्लोकांशान् योजयत ।

'अ' वर्गः	उत्तराणि	'ब' वर्गः
1. कथमायासि न भो !		(क) कृषिकाणां न नश्यति ।
2. सुर्यस्तपतु मेघाः वा		(ख) मम गेहम् ।
3. तथापि कर्मवीरत्वं		(ग) वर्षन्तु विपुलं जलम् ।

प्र. 16. निम्नवाक्येषु रेखाङ्कितपदम् आधृत्य प्रश्ननिर्माणं कुरुत ।

1. गजः चलति ।
2. बालाः सायङ्काले क्रीडनाय गच्छन्ति ।
3. सप्ताहे सप्त दिनानि सन्ति ।
4. उद्याने बालाः क्रीडन्ति ।



**DELHI PUBLIC SCHOOL
NERUL, NAVI MUMBAI**

Practice Assignment for the Annual Examination (2024-25)

Class: VI
Subject: Science

Date of Uploading – 31.01.2025
Date of Submission – 06.02.2025

General Instructions:

This question paper consists of 5 printed sides.

- i. This question paper consists of 5 sections.*
- ii. All questions are compulsory. However, an internal choice is provided in some questions. A student is expected to attempt only one of these questions.*
- iii. **Section A** consists of objective type questions carrying 1 mark each.*
- iv. **Section B** consists of Very Short questions carrying 02 marks each. Answers to these questions should be in the range of 30 to 50 words.*
- v. **Section C** consists of Short Answer type questions carrying 03 marks each. Answers to these questions should be in the range of 50 to 80 words*
- vi. **Section D** consists of Long Answer type questions carrying 05 marks each. Answer to these questions should be in the range of 80 to 120 words.*
- vii. **Section E** consists of source-based/case-based units of assessment of 04 marks each with sub-parts.*

Section - A

Select and write one of the most appropriate option out of the four options in each of the given questions 1 to 6.

1. In conventional flow of current, the electric current in a circuit is considered to flow from _____ terminal of a cell to its _____ terminal
 - a) positive, positive
 - b) positive, negative
 - c) negative, negative
 - d) negative, positive
2. Light travels:
 - a) in a zig-zag path
 - b) in a straight line
 - c) in dark only
 - d) through opaque objects
3. Which of the following examples is a variation from the concept that substances expand on heating and contract on cooling?
 - a) Gaps left between blocks of concrete on bridge.
 - b) Freezing of water.
 - c) Balloon filled with air bursts when kept in the sun.
 - d) Metal wires bend or sag in summer.
4. The method used for faster settling of fine solid impurities in a liquid is _____.
 - a) sedimentation
 - b) loading
 - c) threshing
 - d) filtration
5. The vitamin which gets easily destroyed by heating during cooking is _____.
 - a) vitamin A
 - b) vitamin D
 - c) vitamin C
 - d) vitamin K
6. Which of the following statements is correct?
 - a) The movement and locomotion of all animals is exactly the same.
 - b) There are no joints in the finger bones.
 - c) The cartilage is harder than the bone.
 - d) Cockroaches have an outer skeleton.

Q. no 7 to 9 are Assertion - Reasoning based questions.

These consist of two statements – Assertion (A) and Reason (R). Answer these questions selecting the appropriate option given below:

- a) Both A and R are true and R is correct explanation of the assertion.
- b) Both A and R are true and R is not the correct explanation of the assertion.
- c) A is true but R is false.
- d) A is false but R is true.

7. **Assertion:** The bulb in an open circuit does not glow.

Reason: The path for the flow of electric current is broken if the circuit is open.

8. **Assertion:** Various types of perfumes can be distinguished easily.

Reason: Different perfumes have different colours.

9. **Assertion:** Leaves of the submerged plants are ribbon like or highly divided.

Reason: The water is easily able to flow through the leaves without damaging them.


Section - B

Q. no. 10 to 12 are very short answer questions.

10. Does the length of the shadow change during the day?

11. Observe the diagrams and answer the following questions.

- i) Identify the method of separation shown in the diagram and write one other example of using this method of separation.



- ii) Name and define the process that causes the formation of water droplets outside a glass of cold water.



12. What is malnutrition, and what is its cause?

OR

12. How is excessive intake of fats harmful for the body?

Section - C

Q. no. 13 to 15 are short answer questions.

13. Write any three characteristics of image formed by a pinhole camera.

OR

13. Write any three characteristics of shadow.

14. Do as directed.

- i) Distinguish between reversible and irreversible changes (2 points).
- ii) Draw a neat diagram of the arrangement of atoms in the state of matter that has a definite shape and a definite volume.
- iii) Define saturated solution.

15. i) List two important nutrients along with their functions, that are present in the food source shown in the image.



ii) How are proteins useful to our body?

Section - D

Q. no.16 to 18 are long answer questions.

16. Air is present all around us. We can feel the presence of air but cannot see the air around us.

Air is a mixture of gases.

Answer the following questions, based on the above statement.

- i) Which is the most abundant gas in the atmosphere?
- ii) Mention any two uses of the most abundant gas.
- iii) List two properties of air.

17. Answer the following.

i) Complete the table.

Mixture	Method of separation	Basis of separation
Oil and water		
Stones and gravel		

ii) Write the reaction for the following chemical changes.

- a) Rusting of iron.
- b) Carbonic acid reacts with potassium hydroxide to form potassium carbonate and water.

iii) Identify the slow changes from the following examples –

Bursting of cracker, change of seasons, ripening of fruits, burning of paper.

OR

17. Answer the following.

i) Complete the table.

Mixture	Method of separation	Basis of separation
Iron and sulphur		
Husk and grains		

ii) Write the reaction for the following chemical changes.

a) Photosynthesis.

b) Magnesium chloride and hydrogen are formed when magnesium reacts with hydrochloric acid.

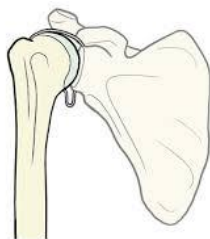
iii) Identify the fast changes from the following examples –

Germination of seeds, changing of bud into flower, burning of wood, melting of butter

18. i) Answer the following questions based on the image shown below.

a) Identify the joint shown in the image and mention its location in the human body.

b) Mention the type of movement allowed by this joint.



ii) What are muscles?

iii) Discuss the gait of a fish.

Section - E

Q.no. 19 to 21 are case - based/data -based questions with 3 short sub - parts. Internal choice is provided in one of these sub-parts.

19. The thin wire gives off light in a bulb. It is fixed to two thicker wires, which also provide support to it.

The base of the bulb and the metal tip of the base are the two terminals of the bulb.

Answer the following questions.

(a) What is the name of the thin wire in the electric bulb?

(b) Draw the circuit diagram for operating a bulb with the help of a dry cell.

(c) A fused bulb does not glow. Why?

OR

(c) Why do bulbs have two terminals?

20. Changes can result in the formation of new substances as well as changes only in the physical properties of the substance. Answer the following questions based on these changes.

(a) Identify the type of change that results in the formation of new substances. What are the new substances called?

(b) Give an example of a change in which only the size of the substance changes and no new substance is formed.

(c) The colour of water changes to blue when blue ink is added to water. How can ink and water be separated?

OR

(c) The taste of water changes to salty when salt is mixed with water. How can salt be separated from water?

21. One of the most important balances maintained in the grasslands is that of predator and prey. A predator is an organism that lives by catching and eating other organisms, whereas prey is an organism which is hunted or caught for food by the predator. For example, a lion hunts deer for food. These animals need to adapt so they can become good predators or avoid falling prey to others.

- (a) Differentiate between a prey and a predator.
- (b) Why do the animals living in grasslands need to adapt?
- (c) How do the long ears of deer help it to survive in the grassland?

OR

- (c) How does the location of the eyes aid the deer in its survival?
-



DELHI PUBLIC SCHOOL
NERUL, NAVI MUMBAI

Practice Assignment for the Annual Examination (2024-25)

Class: VI
Subject: Social Science

Date of Uploading- 31-01-25
Date of submission- 05-02-25

General Instructions:

This paper consists of 6 sections and 17 questions.

SECTION A

1. Which Civilisation came up between the river Tigris and Euphrates?
 - a. Mesopotamian Civilisation
 - b. Egyptian Civilisation
 - c. Indus Valley Civilisation
 - d. Chinese Civilisation

2. The kula was headed by _____

3. Identify the head of the Municipality.
 - a. Chairman
 - b. Mayor
 - c. Councillor
 - d. Blocked Development Officer

4. In the question given below, there are two statements marked as Assertion (A) and Reason (R). Read the statements and choose the correct option.

Assertion (A)- One third of the total number of seats in the Gram Panchayat are reserved for women

Reason(R)- The inclusion of women ensures that the problems and concerns of women do not go unheard

- a. Both A and R are true and R is the correct explanation of A.
- b. Both A and R are true but R is not the correct explanation of A.
- c. A is true but R is false.
- d. A is false but R is true.

5. Who is a cartographer?

- a. People who make plans
- b. People who make sketches
- c. People who make maps
- d. People who make globes

6. Which river flows in the peninsular plateau?

- a. Mahanadi
- b. Ganga
- c. Indus
- d. Brahmaputra

SECTION B

- 7. Write any two points about the Lower Town.
- 8. What is the Gram Sabha?
- 9. Name the four realms of the Earth

SECTION C

- 10. Why are the Vedas regarded as sacred texts? Explain any two vedas.
- 11. How can citizens get their grievances redressed by the municipal bodies?
- 12. Write one difference between the Himadri , Himachal and Shiwalik mountain ranges.

SECTION D

- 13. Write a note on the religion of the Indus valley people.
- 14. What are the main sources of income of the municipal bodies? (5 points)
- 15. Draw and explain the layers of the atmosphere.

SECTION E

16. Read the source given below and answer the question that follow.

From the Rig Vedic hymns , we get a clear idea about the initial Aryan settlements in India. Some of these are the western tributaries of the Indus, the Gomati, the Krumu and the Kuba.

- 16.1 Which tributary of River Indus no longer exists?
- 16.2 What is the land of seven rivers called?
- 16.3 Which language was spoken by the Aryans? Why did the Aryans migrate to the Indian subcontinent?

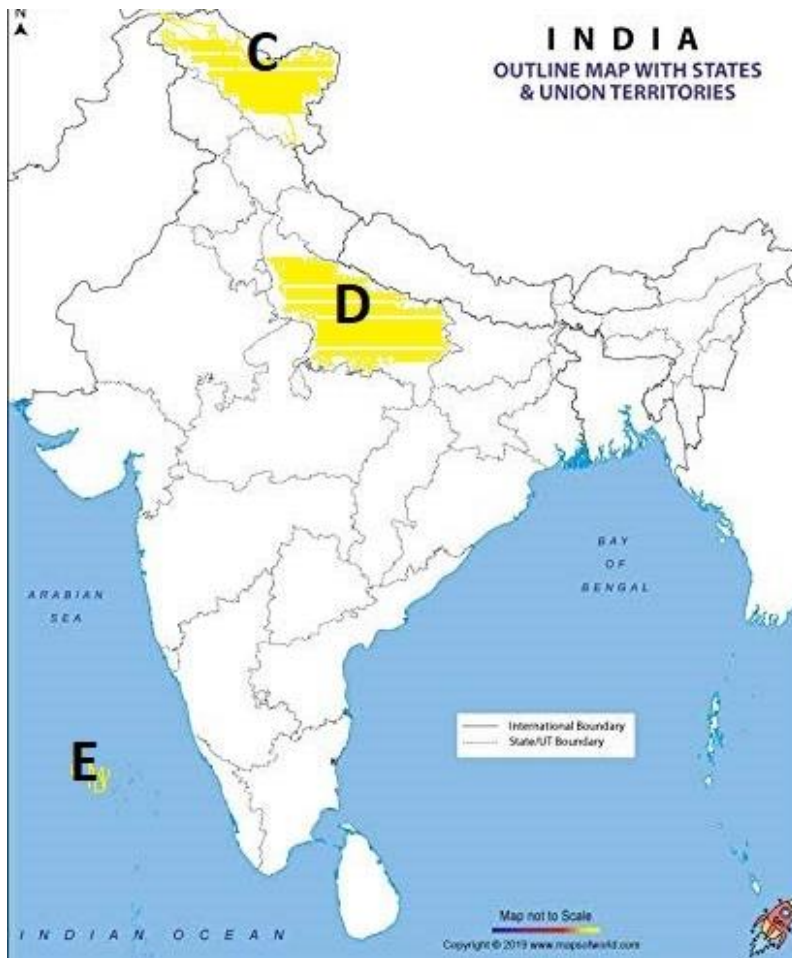
SECTION F

17.1. On the map of India locate A) Lothal B) Harappa C) Mohen jo daro

India Political Maps



17.2. On the given outline map of India, identify the Physical features of India C ,D and E and write it in the answer sheet.





**DELHI PUBLIC SCHOOL
NERUL, NAVI MUMBAI**

Practice Assignment for the Annual Examination (2024-25)

Class: VI
Subject: German

Date of Uploading – 31.01.2025
Date of Submission – 03.02.2025

General Instructions:

This paper consists of 4 sections and 8 questions.

SECTION A

Q.1. Liese den Text und beantworte die Fragen!

Wer wohnt wo? Wer kommt woher?

Ich heie Jan. Ich wohne mit meiner Mutter Alexandra in Gudo, in der Schweiz. Mein Vater Fredj wohnt in Locarno. Meine Mutter kommt aus Kiel, in Norddeutschland, Fredj aus Basel. Ich kann Deutsch und Italienisch. Ich habe viele Hobbys. Ich schwimme, surfe und fische. auerdem koche ich gern: Meine Spezialitt ist Pizza. Ich mag auch Tiere. Ich habe einen Hund. Er heit Bilbo und ist schon 14 Jahre alt, ein Jahr lter als ich.

A. Beantworte die Fragen.

1. Wo liegt Kiel?
2. Was sind die Hobbys von Jan?
3. Welche Sprache spricht Jan?
4. Mag Jan Haustiere?

SECTION B

Q.2. Ergnze den Dialog!

(Fuball mag - deine Cousins - ein bisschen - Wer ist das - gern Musik - ein Tennisball)

Mann: _____, Lea?

Lea: Das ist Sandra. Sie ist meine Cousine und meine beste Freundin. Und das sind ihre zwei Brder.

Mann: Aha. Wie alt sind denn _____?

Lea: Das ist David, er ist 12 Jahre alt. Mein Cousin Max ist zehn.

Mann: Da auf dem Foto, ist das _____ ?

Lea: Wo? ... Ach ja, da.... Ja, Sandra spielt gern Tennis und sie hrt _____. Ed Sheeran ist ihr Lieblingssnger.

Mann: Du spielst ja gern Fuball, Lea. Spielt Sandra auch Fuball?

Lea: Nein, _____ sie berhaupt nicht.

Mann: Du sagst, Sandra ist deine beste Freundin. Was macht ihr denn zusammen?

Lea: Wir sehen Filme im Kino oder im Fernsehen, und wir gehen oft schwimmen. Ich spiele auch _____ Tennis. Sandra und ich, ... wir spielen manchmal Tennis.

SECTION C

Q.3. Stelle Fragen!

1. Das ist **Herr Müller**.
2. Wir lernen **Biologie**.
3. Der Unterricht beginnt **um 10:00 Uhr**.
4. **Nein, wir sind Schüler**.
5. Amisha kauft **Obst und Gemüse** heute.
6. Das Haus ist **hell**.

Q.4. Ergänze das Verb!

1. Was _____ du? Ein Glas Wasser? (trinken)
2. Ich _____ eine Dose Cola trinken. (möchten)
3. Wie alt _____ du, Stefan? (sein)
4. Meine Freundin _____ Ananya. Wie _____ deine Freundin?(heißen)
5. Wohin _____ Markus heute? (fahren)
6. Kinder, _____ ihr Deutsch? (sprechen)
7. Meine Großeltern _____ keine Haustiere.(mögen)
8. 10. Was _____ dein Vater? (rechnen)

Q.5. Ergänze: nicht oder kein/keine?

1. Der Garten ist _____ schön.
2. Nein, das ist _____ Tür.

Q.6. Schreib Imperativformen!

1. Markus, _____ sofort raus! (gehen)
2. Kinder, _____ das Wort! (sagen)
3. Annika, _____ nicht so schnell! (essen)
4. Max und Peter, _____ den Platz! (nehmen)

Q.7. Ergänze Possessivpronomen!

1. Wir machen jetzt _____ Hausaufgaben.
2. Hallo Georg! Wo ist _____ Lehrer?
3. Alex und _____ Freund gehen zur Schule.
4. Das ist Monika und das ist _____ Tasche.
5. Rahul, was ist _____ Mutter von Beruf?

SECTION D

Q.8. Ergänze den Text mit den gegebenen Wörtern!

(komisch – Kängurussteaks – Japanisch – schmeckt – einfach – kommt)

"Namako, einmal Namako bitte!" Verena ist in Japan in einem Restaurant. Sie hat Hunger. Sie spricht kein _____, und sie kennt auch das Wort "Namako" nicht. Aber das Wort ist sehr _____, und es steht auf der Speisekarte. Verena mag das Wort, sie nimmt einmal Namako. Das Essen kommt, und es _____ nicht schlecht. Doch was isst Verena da? Auf Deutsch heißt Namako Seegurke. See Gurken sind eine traditionelle Speise in Japan. Du findest das _____? Die Menschen in Japan finden das normal. Auch das ist normal:

Pierres Lieblingsspeise sind Schnecken. Pierre _____ aus Frankreich. Schnecken sind in Frankreich eine Spezialität. Michael mag _____. In Australien isst man oft und gerne Kängurufleisch.

-----END-----